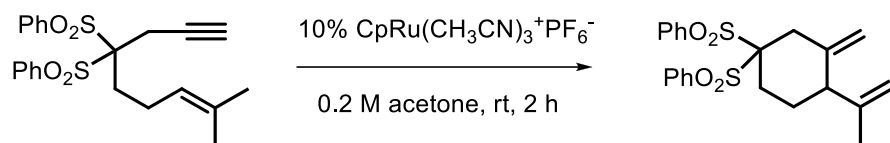
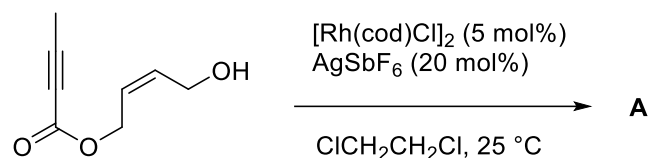


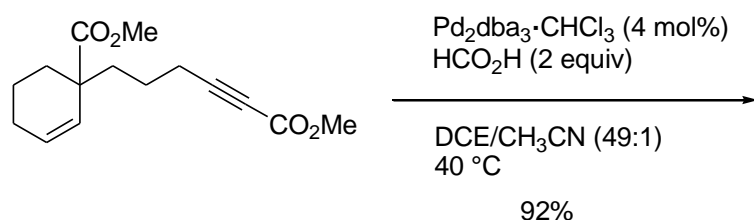
Exercice 1 : Proposez un mécanisme pour la transformation ci-dessous.



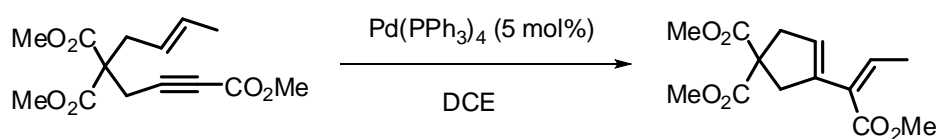
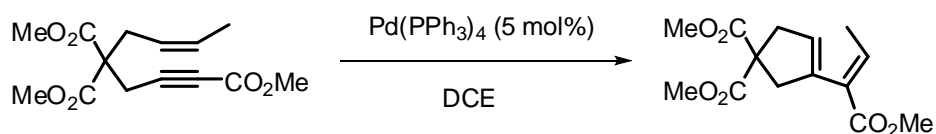
Exercice 2 : Proposez une structure pour le produit **A** issu de la réaction ci-dessous et indiquez le mécanisme de sa formation.



Exercice 3 : Proposez un produit de réaction.



Exercice 4 : Justifier la stéréosélectivité des transformations ci-dessous :



Exercice 5 : Proposez un produit de réaction (la stéréochimie est prévisible). Justifiez votre réponse par un mécanisme réactionnel.

